




Structurer sa pensée :
étudier les nombres









Prénom : _____

Date : _____

⇨ Décomposer le nombre 5

Dans la famille lapin, il y a 5 lapins, certains sont au jardin, d'autres dans la maison...

Observe,  réfléchis et  dessine le bon nombre de lapins dans la maison.

	
	<input type="text"/>
	<input type="text"/>
	<input type="text"/>
	<input type="text"/>
4	<input type="text"/>
0	<input type="text"/>
3	<input type="text"/>
1	<input type="text"/>